

# Test d'incontournables Mathématiques ( B )

Créé par Julie Roy

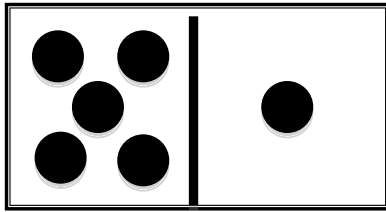
Pose la question: Combien de points vois-tu?

- A) 6
- B) 8
- C) 7
- D) 9

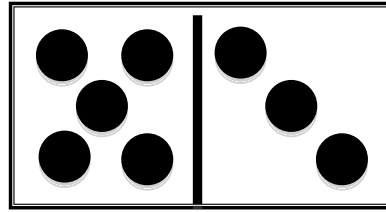
**Somme de 5 et un nombre**

**Combien de points vois-tu?**

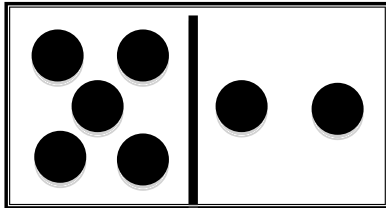
A)



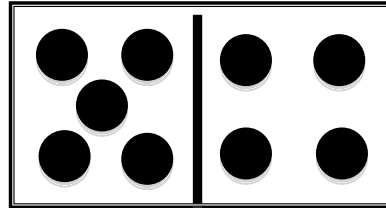
B)



C)



D)



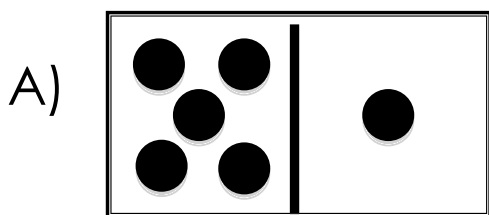
**Somme de 5 et un nombre**

Quel est le nombre manquant pour avoir une somme de 10


- A) 4
- B) 7
- C) 5
- D) 6
- E) 3
- F) 8

**Une somme de 10**

**Combien de plus pour obtenir une somme de 10?**



B) 3




D) 4

E)



F)



Créé par Julie Roy

**Une somme de 10**

Si l'élève réussit chacune des tâches dans quelques secondes, continue à la page suivante.

**deux de plus**

A) 10

B) 8

C) 6

D) 12

E) 17

F) 11

**deux de moins**

A) 5

B) 1

C) 8

D) 7

E) 9

F) 3

**Deux de plus/Deux de moins**

**Ajoute 2 à chacun des nombres.**

A) 8      B) 6      C) 4

D) 10      E) 15      F) 9

**Enlève 2 à chacun des nombres.**

A) 7      B) 3      C) 10

D) 9      E) 11      F) 5

**Deux de plus/Deux de moins**

**Ajoute un à chacun des nombres.**

A) 9      B) 4      C) 8

D) 10      E) 6      F) 3

**Enlève un à chacun des nombres.**

A) 8      B) 6      C) 11

D) 10      E) 5      F) 3

**Un de plus/Un de moins**

Si l'élève réussit chacune des tâches dans quelques secondes, continue à la page suivante.

**un de plus**

- A) 10                      B) 5                      C) 9  
D) 11                      E) 7                      F) 4

**un de moins**

- A) 7                      B) 5                      C) 10  
D) 9                      E) 4                      F) 2

**Un de plus/Un de moins**